

La géographie de la Gaule au temps d'Hannibal

Retrouve en lignes et en colonnes les noms des villes antiques listées en rose

Associe les noms des villes antiques avec leur nom actuel en bleu

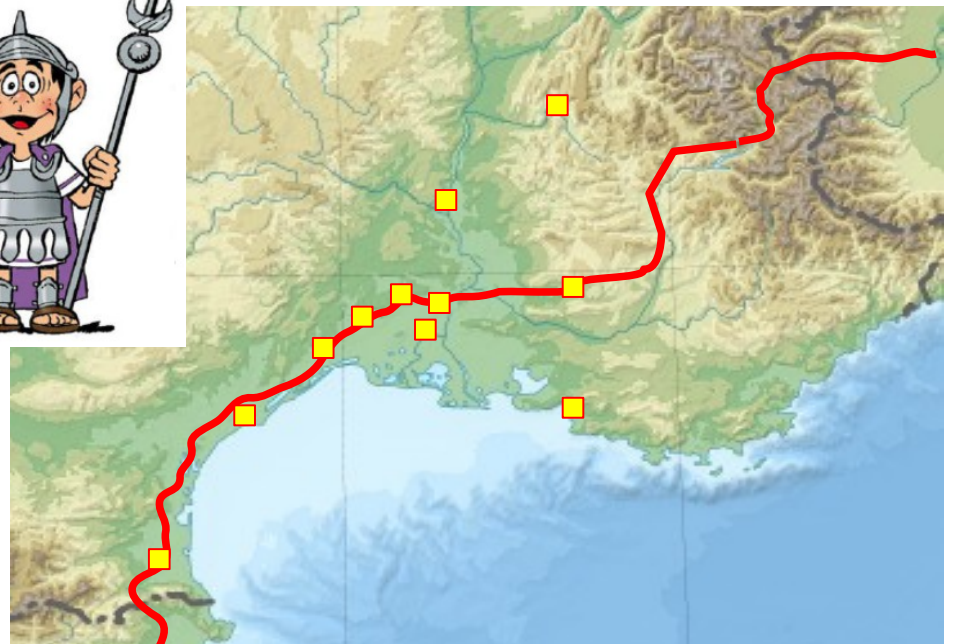
U M A S S A L I A
 G H M T Y A A L R
 E U B Z F R T L A
 R Y R E N E T I U
 N Q U R X L A B S
 U J S A P A R E I
 M L S P S T A R O
 S D U T O E V I M
 N E M A U S U S C
 I A G A T H E N B



AGATHÈ	1	
AMBRUSSUM	2	
APTA (JULIA)	3	
ARAUSIO	4	
ARELATE	5	
DEA (AUGUSTA)	6	
ILLIBERIS	7	
LATTARA	8	
MASSALIA	9	
NEMAUSUS	10	
UGERNUM	11	

a	AGDE
b	APT
c	ARLES
d	BEAUCAIRE
e	DIE
f	ELNE
g	LATTES
h	MARSEILLE
i	NÎMES
j	ORANGE
k	VILLETTELLE

Situe ces villes sur la carte de la Voie Hérakléenne, en reportant leur numéro au bon endroit



Source : <https://www.cartes-de-france.fr/carte/fond-carte-relief-france-large.png>

Cartes de France

© 2022

Source: <https://www.Cartes-de-France.fr/> title="Quiz Cartes de France"><https://www.cartes-de-france.fr/> > <https://www.cartes-de-france.fr/carte/fond-carte-relief.html> title="Fonds de cartes du relief">Quiz et fonds de cartes du

La géographie de la Gaule au temps d'Hannibal

Les réponses :



AGATHÈ	1	a	a	AGDE
AMBRUSSUM	2	k	b	APT
APTA (JULIA)	3	b	c	ARLES
ARAUSIO	4	j	d	BEAUCAIRE
ARELATE	5	c	e	DIE
DEA (AUGUSTA)	6	e	f	ELNE
ILLIBERIS	7	f	g	LATTES
LATTARA	8	g	h	MARSEILLE
MASSALIA	9	h	i	NÎMES
NEMAUSUS	10	i	j	ORANGE
UGERNUM	11	d	k	VILLETTELLE



L'armée d'Hannibal en marche



Dans l'armée d'Hannibal il y a :

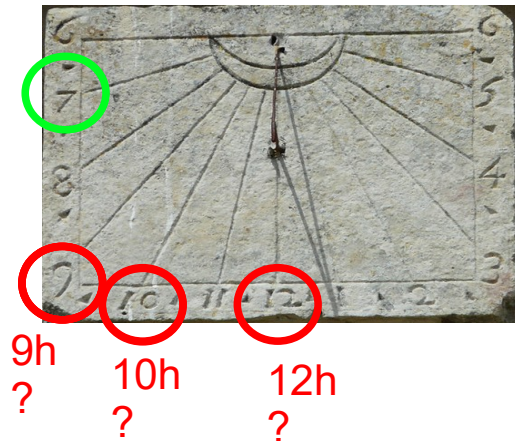
- 90 000 fantassins à pied
- 12 000 cavaliers et 37 éléphants
- 12 000 muletiers qui transportent les outils, les armes, les équipements, l'argent et la nourriture.

En marche, elle avance en moyenne à 5 kilomètres par heure.

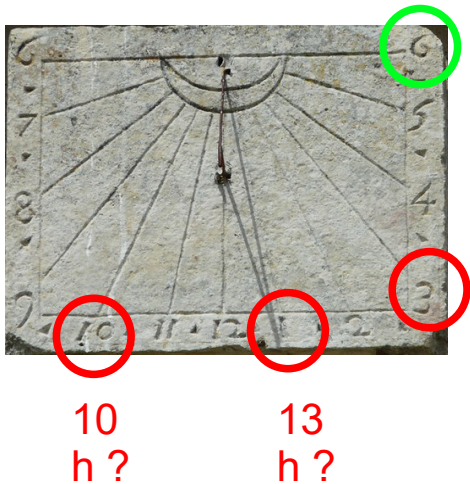
Chaque jour elle parcourt une étape de 15 km. A cette époque

les voies romaines n'ont pas encore été construites. L'avant-garde part en premier avec l'intendance chargée de préparer le camp pour la nuit suivante.

Si elle part à 7 heures du matin, à quelle heure arrive-t-elle au rendez-vous : 9h, 10h, ou midi ?



L'arrière-garde part en dernier et ferme la marche, après l'infanterie, la cavalerie et les muletiers. L'armée forme une longue file et progresse en accordéon, comme dans une circulation automobile quand elle se densifie.



A quelle heure doit-elle partir pour être arrivée au camp de destination à 18 h : 10h, 13h, ou 15h?



Selon toi, quel est l'animal qui symbolise le mieux le mode de progression de l'armée en marche entre deux étapes :



Le crabe



Le kangourou



La chenille



Le singe




La cigale



L'armée d'Hannibal en marche

Les réponses :

L'avant-garde part en premier avec l'intendance chargée de préparer le camp pour la nuit suivante.



10h

L'arrière-garde part en dernier et ferme la marche, après l'infanterie, la cavalerie et les muletiers. L'armée forme une longue file et progresse en accordéon, comme dans une circulation automobile quand elle se densifie.



15h

Selon toi, quel est l'animal qui symbolise le mieux le mode de progression de l'armée en marche entre deux étapes :



Le crabe



Le kangourou



La chenille



Le singe



La cigale



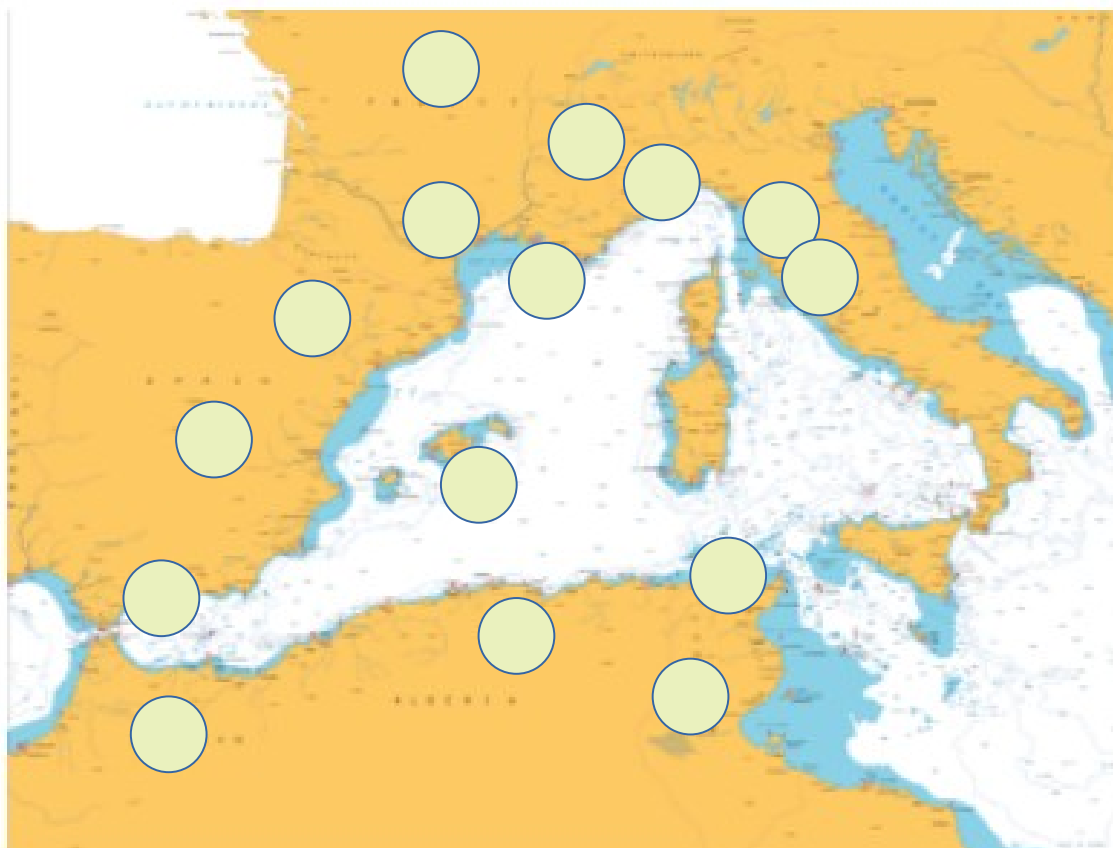
Les peuples qui se croisent sur la route d'Hannibal

1		E	T		U		Q	U	
2		B	E		E				
3			G			L		I	S
4		L		G	U		E		
5				A	T		N		
6		V	O		Q	U			
7				U	M	I		E	
8	M			R	E				
9			G			C			
10		C	E		T	I		E	R
11				U	N		Q		E
12	B	A			A	R	E		
13			A			O	B		O
14		L		B	Y		N		
15			P		E	N		C	I

Aide-nous à retrouver les noms de peuples que nous avons croisés sur la route d'Hannibal



... et leur région d'origine sur la carte ci-dessous



Les peuples qui se croisent sur la route d'Hannibal

Les réponses :

1		E	T	R	U	S	Q	U	E		
2	I	B	E	R	E						
3		G	A	U	L	O	I	S			
4		L	I	G	U	R	E				
5			L	A	T	I	N				
6		V	O	L	Q	U	E				
7			N	U	M	I	D	E			
8	M	A	U	R	E						
9			G	R	E	C					
10		C	E	L	T	I	B	E	R	E	
11			P	U	N	I	Q	U	E		
12	B	A	L	E	A	R	E				
13			A	L	L	O	B	R	O	G	E
14		L	I	B	Y	E	N				
15			P	H	E	N	I	C	I	E	N



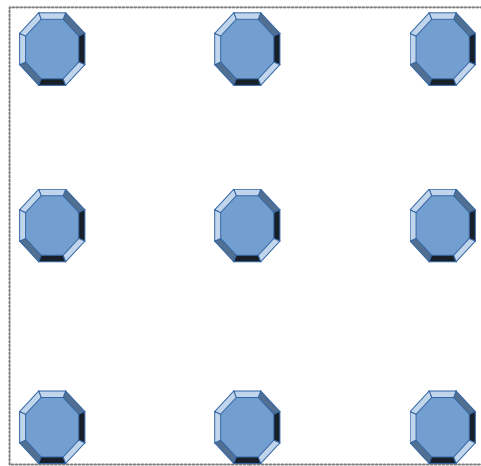
La stratégie d'Hannibal : « en dehors du cadre »

Tout au long de sa vie, Hannibal a bousculé les habitudes de son époque en réfléchissant « en dehors du cadre ». Par exemple : inventer de nouvelles tactiques militaires, imaginer un voyage éclair à travers le sud de l'Europe avec des milliers d'hommes, s'intéresser à la psychologie de ses adversaires pour les vaincre, etc.

Pour tester cette façon de réfléchir en dehors du cadre, essaie de faire l'exercice suivant :



Tu dois relier ces 9 points par un tracé de 4 lignes droites mais sans lever le crayon !



Question à choix multiple : coche ci-dessous la bonne réponse à ces deux questions :

Pourquoi les Carthaginois ont-ils déclaré la guerre aux Romains ?

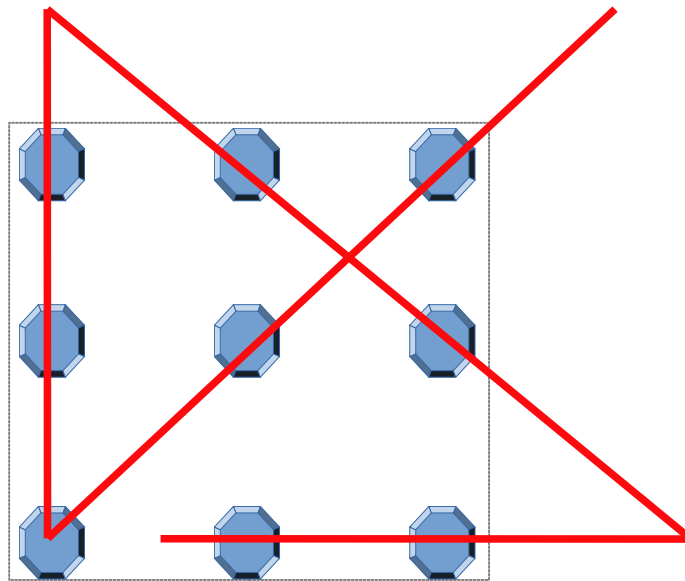
1. Pour prendre des vacances à Capoue dans le sud de l'Italie
2. Pour se venger des pertes subies suite à la 1ère guerre perdue contre Rome
3. Parce que Scipion était amoureux d'Imilké, la femme d'Hannibal

Pourquoi sont-ils passés par la terre et pas par la mer pour envahir l'Italie ?

1. Pour voir si des éléphants peuvent traverser les Alpes
2. Parce que les carthaginois avaient peur de l'eau
3. Parce que la marine romaine était plus puissante que la leur

La stratégie d'Hannibal : « en dehors du cadre »

Les réponses :



Question à choix multiple : coche ci-dessous la bonne réponse à ces deux questions :

Pourquoi les Carthaginois ont-ils déclaré la guerre aux Romains ?

1. Pour prendre des vacances à Capoue dans le sud de l'Italie
2. Pour se venger des pertes subies suite à la 1ère guerre perdue contre Rome
3. Parce que Scipion était amoureux d'Imilké, la femme d'Hannibal

Pourquoi sont-ils passés par la terre et pas par la mer pour envahir l'Italie ?

1. Pour voir si des éléphants peuvent traverser les Alpes
2. Parce que les carthaginois avaient peur de l'eau
3. Parce que la marine romaine était plus puissante que la leur

« Nous trouverons un chemin, ou nous en créerons un »

On attribue à Hannibal ces paroles philosophiques et stratégiques, qui illustrent la motivation du stratège Carthaginois à parvenir en Italie, même sans savoir à l'avance par quel chemin il pourra faire passer son armée, ni avec l'aide de qui.

Aide Hannibal à trouver le bon chemin vers Rome



Source : <https://fabulo.blogspot.com/2009>

Source : <https://www.deviantart.com/unde>

LE Minotaure



LE Minotaure



dragono.fr

Le Minotaure était un monstre fabuleux au corps d'homme et à tête de taureau. Le Minotaure vivait en Crète enfermé dans un labyrinthe et se nourrissait de chair humaine. La légende du Minotaure est à l'origine des combats de taureaux.

Retrouve les 7 différences entre ces deux représentations du Minotaure



Source : <https://www.dragono.fr/jeux-%C3%A9ducatifs/jeux-des-sept-diff%C3%A9rences/>

« Nous trouverons un chemin,
ou nous en créerons un »

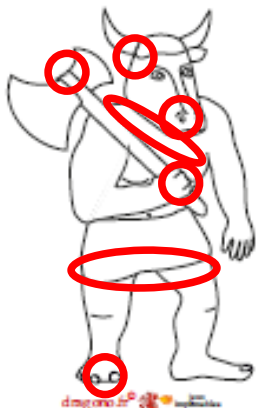
Les réponses :



LE Minotaure



LE Minotaure



Déchiffrons le punique, la langue des Carthaginois

La langue de Carthage au temps d'Hannibal était le punique. Cette langue sémitique comme l'arabe ou l'hébreu, s'écrivait de droite à gauche, à l'aide de l'alphabet de 22 consonnes qui a été créé par leurs ancêtres les Phéniciens. Les voyelles ne s'écrivaient pas.

En punique, l'armée se disait « mahanat » et s'écrivait :

𐤌 𐤍 𐤏 𐤓

←
T - N - H - M

Construisons un carré magique :

𐤏			𐤓
𐤌			𐤎


Remplis le tableau avec ces 4 lettres sans qu'elles ne se répètent dans les lignes, dans les colonnes ou dans les diagonales



La monnaie à Carthage s'appelait le « sheqel » ou sicle :

𐤌 𐤒 𐤍

←
L - Q - Sh



C'est avec cette monnaie que les soldats percevaient leur solde. Le palmier était l'emblème de Carthage, c'est pour cela qu'il apparaît sur ces pièces..

Termine le palmier en en reproduisant la forme et les couleurs de la partie gauche du dessin




Source : <https://freesvg.org/palm-02>

Déchiffrons le punique, la langue des Carthaginois

Les réponses :

𐤀	𐤁	𐤂	𐤃
𐤁	𐤂	𐤃	𐤀
𐤃	𐤀	𐤁	𐤂
𐤂	𐤃	𐤀	𐤁




La famille Barca

Hannibal appartenait à la famille Barca, très puissante à Carthage. Barca signifie l'éclair en punique.

Hannibal avait deux frères, tous les deux l'ont accompagné pendant la deuxième guerre punique contre les romains.

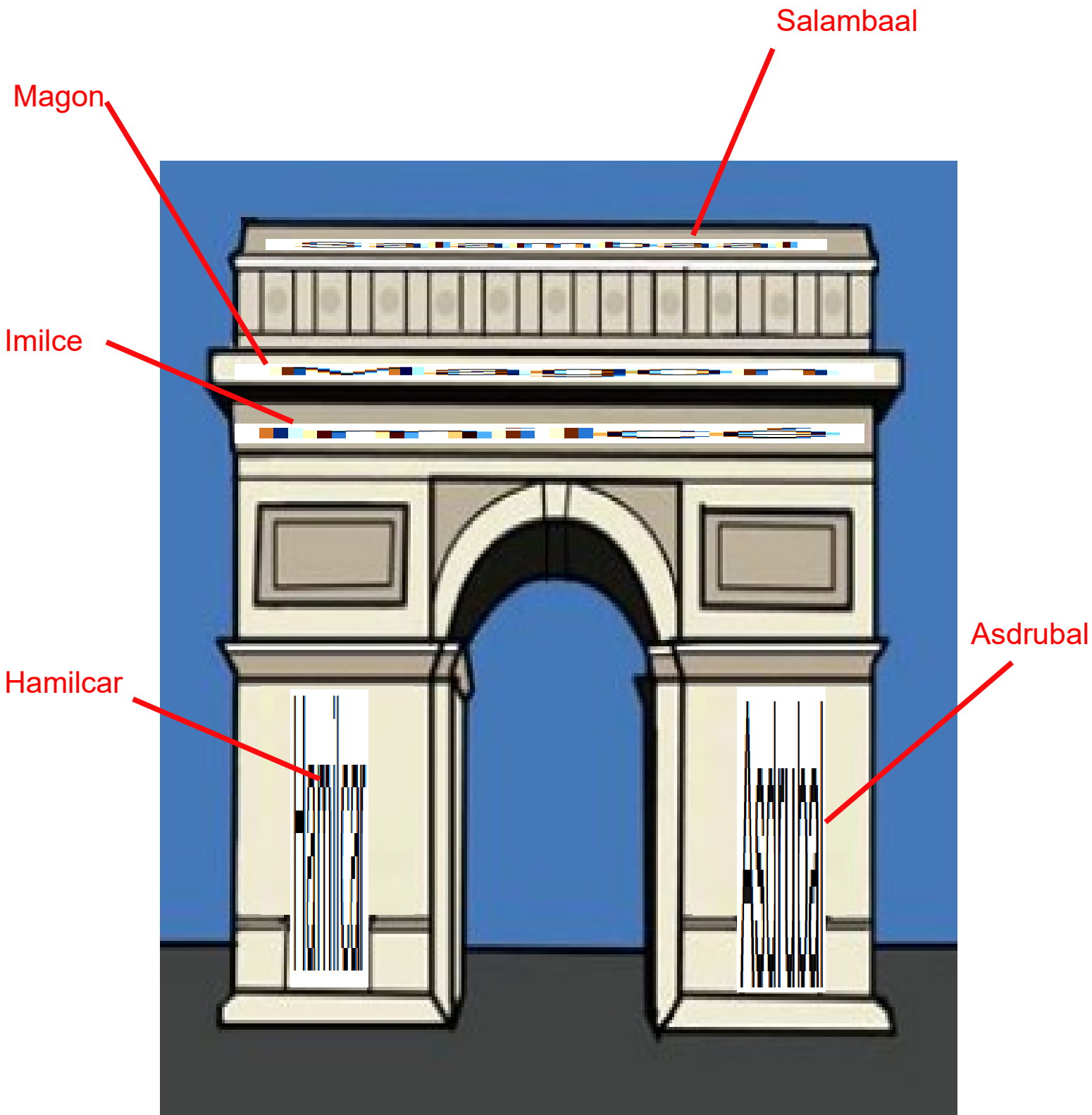
Essaie de retrouver sur l'arc de triomphe les noms de 5 des membres de la famille d'Hannibal : sa sœur, ses frères, son père, et sa seconde épouse



Source : © 2015 Kube. Licensed under CC-BY.



















La famille Barca

Les réponses :



De quoi se nourrissait l'armée d'Hannibal ?

L'alimentation des troupes d'Hannibal repose sur des céréales (blé, orge, millet, avoine) consommées sous forme de bouillies ou de pain agrémenté d'oignon, d'huile d'olive et d'ail. L'armée consomme aussi de la viande (bœuf, mouton) sous forme de bouillon. Les Puniques apprécient aussi le garum : une sauce à base de poisson au goût très prononcé, semblable au nuoc mam. Le vin est très cher, et les soldats se contentent de vinaigre coupé d'eau : la posca. Les puniques mangent 2 fois par jour, au lever et au coucher du soleil.

Blé 	Tomate 	Figue 	Riz 	Ananas 	Pomme 
Datte 	Miel 	Pomme de terre 	Poire 	Olive 	Banane 
Noix 	Maïs 	Fraise 	Orange 	Grenade 	Lentille 

Dans le tableau du dessus il y a 6 mets qui étaient inconnus des Carthaginois : peux-tu les identifier ?



Réponse

- La tomate fut introduite d'Amérique en Europe au début du XVI^e siècle par les Espagnols, d'abord en Espagne en 1523, puis en 1544 en Italie, par Naples, alors possession de la couronne espagnole
- L'ananas est originaire d'Amérique du Sud. C'est un compagnon de Christophe Colomb qui est le premier à décrire le fruit lors du second voyage de 1493-1496. En France, on tente de le cultiver à partir de 1702.
- La pomme de terre est originaire de la cordillère des Andes (Pérou). Elle est introduite en Europe vers la fin du XVI^e siècle à la suite de la découverte de l'Amérique par les conquistadors espagnols.
- La banane a été importée en Afrique du nord et en Espagne par les Arabes à partir de 650
- Le maïs est originaire du Mexique et constituait l'aliment de base des Amérindiens avant l'arrivée en Amérique de Christophe Colomb. Il est introduit en Europe au XVI^e siècle.
- L'oranger est originaire de Chine. Transmis par les Perses aux Arabes, l'orange amère fut implantée en Andalousie, Sicile et Pays valencien, d'où il se diffusa vers le reste de l'Europe. Dans un second temps, à la fin du XV^e siècle, les navigateurs portugais découvrirent l'orange douce en Chine et dans l'île de Ceylan, et la rapportèrent en Europe